

1. Возач бицикла у ситуацији на слици креће се:
- а) прописно
 - б) прописно, ако се креће уз леву ивицу коловоза
 - ц) путем на коме је његово кретање забрањено
- 4**

2. Возачу путничког аутомобила, у ситуацији на истој слици, кретање уназад је:
- а) дозвољено, јер се креће уз десну ивицу коловоза
 - б) дозвољено, јер је упалио сва четири показивача правца
 - ц) забрањено
- 4**



3. У ситуацији на истој слици, возач црвеног путничког аутомобила скреће улево:
- а) прописно
 - б) прописно са укљученим показивачем правца
 - ц) непрописно
- 3**

4. Теретно возило у ситуацији на истој слици скреће удесно:
- а) прописно
 - б) на раскрсници на којој је забрањено скретање удесно
 - ц) прописно, када пропусти путнички аутомобил
- 3**



5. У ситуацији на слици, возач трамваја:
- а) има првенство пролаза у односу на бицикл и мотоцикл
 - б) дужан је да пропусти и бицикл и мотоцикл
 - ц) дужан је да пропусти само мотоцикл
- 4**

6. Редослед проласка возила преко раскрснице је следећи:
- а) бицикл, мотоцикл и трамвај
 - б) трамвај, бицикл и мотоцикл
 - ц) трамвај, мотоцикл и бицикл
- 4**

7. Ако је на бициклу уграђено посебно седиште, може се превозити дете до осам година старости, ако је возач бицикла старији од:
- а) 14 година
 - б) 16 година
 - ц) 18 година
- 3**



**VAŠA
VERNA
SENKA**



8. Пролажење возилом поред заустављеног или паркираног возила или другог објекта који се налази на саобраћајној траци, којом се возило креће, назива се :

- а) мимоилажење
- б) претицање 2
- ц) обилажење




9. Возач црвеног путничког аутомобила на своме возилу, у ситуацији на слици има упаљена:

- а) велика светла
- б) оборена светла 2
- ц) светла за маглу

10. Уколико се коловозом крећу две или више организованих колона пешака, одстојање између сваке колоне мора бити најмање:

- а) 30 метара
- б) 10 метара 3
- ц) 50 метара



11. У ситуацији на слици, возачу црвеног путничког аутомобила претицање путничког аутомобила и теретног возила је:

- а) дозвољено, јер је упалио леви показивач правца
- б) дозвољено, јер му саобраћајним знаком није забрањено
- ц) забрањено, јер се креће саобраћајном траком намењеном за кретање возила из супротног смера 3

12. У ситуацији на истој слици, пут којим се возила крећу има:

- а) једну коловозну траку
- б) две коловозне траке 3
- ц) три коловозне траке




13. Редослед проласка возила на раскрсници, у ситуацији на слици је следећи:

- а) возило полиције, црвени путнички аутомобил, теретно возило и жути путнички аутомобил
- б) црвени путнички аутомобил, теретно возило, возило полиције и жути путнички аутомобил
- ц) жути путнички аутомобил, црвени путнички аутомобил, возило полиције и теретно возило 3

14. Возило полиције у ситуацији на слици:

- а) дужно је да пропусти сва возила која се крећу путем са првенством пролаза
- б) дужно је да пропусти само возила која му долазе са десне стране
- ц) има првенство пролаза у односу на сва возила на раскрсници 3



15. Возач теретног возила започиње претицање путничког аутомобила у ситуацији на слици:

- а) прописно, јер му саобраћајним знаком то није забрањено
- б) прописно, јер му ознаке на коловозу то дозвољавају
- ц) непрописно, јер му саобраћајна трака намењена за кретање возила из супротног смера није слободна на довољном растојању 3

16. У ситуацији на истој слици, саобраћајни знак значи да је то:

- а) пружање пута са правом првенства пролаза
- б) спајање са споредним путем под правим углом с леве стране
- ц) укрштање са споредним путем под правим углом 3




17. Возила под пратњом у ситуацији на слици наилазе на колону пешака на обележеном пешачком прелазу и том приликом:

- а) имају право пресецања колоне пешака
- б) немају право пресецања колоне пешака
- ц) дужни су да се зауставе и сачекају да пешаци пређу преко коловоза 3

18. Жути путнички аутомобил који се креће путем са првенством пролаза у ситуацији на слици:

- а) има првенство пролаза у односу на возила под пратњом
- б) дужан је да пропусти само пешаке на обележеном пешачком прелазу
- ц) дужан је да пропусти и возила под пратњом и пешаке 4



19. Аутобусу у ситуацији на слици скретање улево је:

- а) дозвољено
- б) забрањено
- ц) дозвољено тек када пропусти путнички аутомобил ... 3

20. У ситуацији на истој слици првенство пролаза на раскрсници регулисано је:

- а) правилима саобраћаја
- б) саобраћајним знаковима
- ц) светлосним саобраћајним знаковима 3

21. Како би могао да управља запрежним возилом у саобраћају, возач запрежног возила поред тога што мора бити способан да контролише упрегнуте животиње, мора бити узроста од најмање:

- а) 14 година
- б) 16 година
- ц) 18 година 3



22. Више узастопних звиждука полицајца који регулише саобраћај значи:

- а) да возач према коме је упутио звиждук смањи брзину кретања
- б) да ће доћи до промене положаја полицајца
- ц) да је неки од учесника у саобраћају поступио противно правилима саобраћаја 3



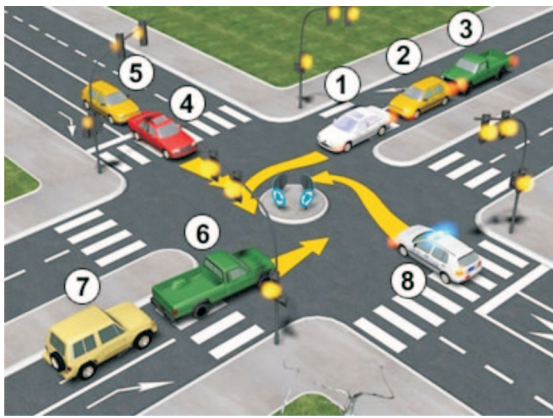
23. Возач путничког аутомобила у ситуацији на слици врши полукружно окретање на раскрсници на којој му је полукружно окретање:

- а) дозвољено
- б) забрањено
- ц) није дозвољено саобраћајним знаком 3


24. У ситуацији на слици, првенство пролаза има:

- а) возач путничког аутомобила
- б) возач бицикла
- ц) саобраћајним знаком није регулисано 3

25-26. У поља испод слике упиши бројеве који се налазе поред возила по редоследу проласка кроз раскрсницу:



4



4

27. У поља испод сваког саобраћајног знака уписати редни број који је испред описа њиховог значења:



2




2




1



2



1




2



1



2



2



2

1. Забрана скретања улево
2. Број пута
3. Пут са првенством пролаза
4. Укрштање са путем са првенством пролаза
5. Табла за усмеравање улево
6. Укрштање са споредним путем под правим углом

7. Број међународног пута
8. Забрана полукружног окретања
9. Обавезно обилажење са леве стране
10. Пружање пута са правом првенства пролаза
11. Обавезан смер
12. Спајање са споредним путем под правим углом с леве стране

НАШИ ПРИЈАТЕЉИ!

(Стартни број, име и презиме)

(назив-разред/школа/екипа)

100- =
Поена Поена Поена



CIP - Каталогизација
у публикацији
Народна библиотека
Србије, Београд

ISBN: 978-86-7514-038-2
COBISS.SR-ID 128269324